

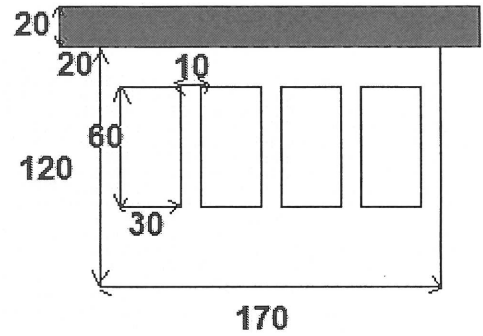
**Comenius Logo (Választható)(55 pont)**

**1. Feladat (25 pont)**

Készíts eljárást, amely a képen lévő méretek alapján megrajzolja az iskola épületét. Az iskola teteje piros színnel van kitöltve.

**tanuld iskola**

**vége**




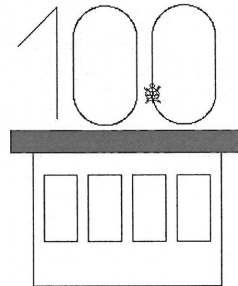
**2. Feladat (20 pont)**

Eljárás segítségével rajzold meg a 100-as számot.

A számot helyezd rá az iskola tetejére.

**tanuld 100éves**

**vége**



Munkádat mentsd el **haller.lgp** néven a megfelelő mappába!

**3. Feladat (10 pont)**

A program használata nélkül rajzold le, mi a feladata a következő eljárásban a teknőcnek!

**minta 10 5**

**tanuld** minta :a :n

ism :n [b 90 ism 3 [e :a j 120] ff h :a / 2 tl j 60 ism 3 [e :a j 120] b 60 ff h :a + :a / 2 tl j 90]

**vége**

27 150

120  
57,25  
28,6562,71